

Централизованное тестирование по истории Беларуси, 2014

При выполнении заданий с кратким ответом впишите в поле для ответа цифру, которая соответствует номеру правильного ответа, или число, слово, последовательность букв (слов) или цифр. Ответ следует записывать без пробелов и каких-либо дополнительных символов. Имена правителей в заданиях с кратким ответом необходимо указывать словами: Пётр Первый или Пётр Великий, но не Пётр I или Пётр I.

В заданиях, где нужно установить соответствие между двумя столбцами, ответ запишите в виде сочетания букв и цифр, соблюдая алфавитную последовательность букв левого столбца. Некоторые данные правого столбца могут использоваться несколько раз или не использоваться вообще. Например: А1Б1В4Г2.

Если вариант задан учителем, вы можете вписать или загрузить в систему ответы к заданиям с развернутым ответом. Учитель увидит результаты выполнения заданий с кратким ответом и сможет оценить загруженные ответы к заданиям с развернутым ответом. Выставленные учителем баллы отобразятся в вашей статистике.

1. Образное объемное изображение языческого бога — это:

- 1) икона 2) идол 3) портрет 4) орнамент

2. В восточнославянских письменных источниках XI—XII вв. крестьяне, которые имели личную свободу, однако земля, на которой они работали, принадлежала князю, получили название:

- 1) людины 2) тяглые 3) смерды 4) холопы

3. Определите последовательность событий:

- А — высылка киевским князем Мстиславом полоцких князей в Византию
 Б — крещение Руси
 В — завоевание Юрием Ярославичем независимости Турова от Киева
 Г — княжение Всеслава Брючиславича в Полоцке

- 1) ВАБГ 2) БВГА 3) АБВГ 4) БГАВ

4. При археологических раскопках в городе Мстиславле был(-а) найден(-а):

- 1) «Рогволодов камень» 2) берестяная грамота
 3) первая рукописная книга на белорусских землях
 4) деревянный гребень с буквами славянского алфавита

5. Согласно Густынской летописи первое упоминание герба «Погоня» связано с именем князя:

- 1) Миндовга 2) Гедимина 3) Витеня 4) Ольгерда

6. Определите одну из предпосылок обострения отношений между Великим Княжеством Литовским (ВКЛ) и Великим Княжеством Московским в конце XV — первой половине XVI в.:

- 1) заключение унии между ВКЛ и Швецией 2) поддержка властью ВКЛ Лжедмитрия I
 3) претензии московских монархов на трон ВКЛ
 4) переход к Московскому государству инициативы в «собираании русских земель»

7. Выступления мещан на территории ВКЛ в первой половине XVII в. чаще всего были вызваны:

- 1) лишением мещан политических прав
 2) запрещением деятельности ремесленных цехов
 3) злоупотреблениями членов магистрата
 4) насильственным переселением в другие города

8. Виленская академия была основана привилеем короля Речи Посполитой:

- 1) Сигизмунда I Старого 2) Стефана Батория 3) Сигизмунда II Августа
 4) Сигизмунда III Вазы

9. Северная война между Северным союзом и Швецией завершилась подписанием Ништадтского мира в:

- 1) 1654 г. 2) 1700 г. 3) 1721 г. 4) 1767 г.

10. Определите причины заключения Люблинской унии:

- а — тяжелое внешнеполитическое положение ВКЛ в Ливонской войне
 б — стремление православной церкви распространить свое влияние на Западную Европу
 в — стремление польской шляхты получить земли в ВКЛ
 г — необходимость совместной борьбы против крестоносцев и монголо-татар

- 1) а, б 2) б, в 3) а, в 4) в, г

11. Во время проведения экономических реформ в ВКЛ во второй половине XVIII в. для контроля над финансами была (был) создана (создан):

- 1) Скарбовая комиссия ВКЛ 2) Эдукационная комиссия 3) Постоянная Рада
 4) Трибунал ВКЛ

12. Определите причину ослабления позиций католической церкви в ВКЛ во второй половине XVI в.:

- 1) распространение Реформации 2) заключение Люблинской унии
 3) увеличение налогов с владений католической церкви
 4) отсутствие поддержки со стороны верховной власти

13. Государственный деятель ВКЛ, магнат, противник государственной унии с Польшей, меценат, при поддержке которого в Бресте была основана первая на территории Беларуси реформационная типография, — это:

- 1) М. Смотрицкий 2) О. Волович 3) И. Потоцкий 4) Н. Радзивилл Черный

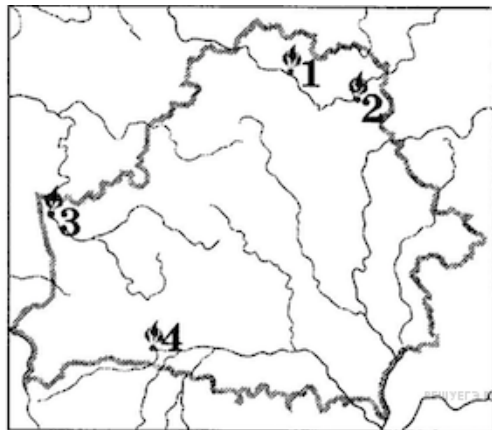
14. Прочитайте отрывок из стихотворения «К полякам и литвинам» А. Волана.

..Вашых продкаў не варта ганьбіць нараканнем,
Што здумелі галовы доўгім разважаннем,
Як навекі ўдзяржаве ім адной злучыцца І ўзаемна са згодай брацкаю любіцца...
Роўны з роўным змірыцца здолее заўсёды,
Добры з добрым таксама не мінае згоды...

Согласно тексту в ВКЛ стремились к:

- 1) равноправному союзу с Польшей 2) инкорпорации ВКЛ в состав Польши
3) созданию единого экономического пространства
4) инкорпорации Польши в состав ВКЛ

15. Город, в котором во время выступления горожан в 1623 г. был убит униатский архиепископ И. Кунцевич, обозначен на картосхеме цифрой:



- 1) 1 2) 2 3) 3 4) 4

16. Студент Виленской медико-хирургической академии Ф. Савич в 1836 г. создал тайную организацию:

- 1) «Демократическое общество» 2) «Союз литераторов» 3) «Народная воля»
4) Белорусская социалистическая громада

17. В соответствии с Манифестом 19 февраля 1861 г. об отмене крепостного права крестьяне получили:

- 1) гражданские права 2) политические права 3) землю без выкупа
4) компенсацию от помещиков

18. Определите характерные черты экономического развития белорусских земель в первой половине XIX в.:

- а — завершение промышленного переворота
б — преобладание предприятий перерабатывающей промышленности
в — расширение внешней торговли
г — отсутствие вольнонаемных рабочих на предприятиях

- 1) а, б 2) б, г 3) б, в 4) а, г

19. Для сторонников революционного направления социал-демократии в России в конце XIX — начале XX в. была характерна идея:

- 1) ограничения монархии в России конституцией
2) признания ведущей роли пролетариата в революционной борьбе
3) перехода к социализму через крестьянскую общину
4) сохранения единой неделимой России

20. Класс (общественная группа людей) наемных рабочих, которые лишены собственности на орудия труда, — это:

- 1) пролетариат 2) крестьянство 3) буржуазия 4) купечество

21. Определите организацию, которая была создана в 1915 г. в оккупированной германскими войсками Вильне:

- 1) Белорусская центральная рада 2) Совет рабочих и солдатских депутатов
3) Белорусский народный комитет 4) Белорусская христианская демократия

22. Представленный на современной фотографии архитектурный памятник XIX в. — это:



- 1) собор Святого Иосифа в Могилеве 2) музей-усадьба И. Репина в Здравнёво
3) костел Святого Роха в Минске 4) Свято-Воскресенский собор в Борисове

23. Определите событие, которое произошло последним из перечисленных:

- 1) издание газеты «Мужыцкая прада»
2) присоединение униатской церкви к православной на территории Беларуси
3) отмена действия Статута ВКЛ 1588 г. в Минской, Гродненской и Виленской губерниях
4) создание Общества филоматов

24. Мирный договор между Советской Россией и государствами германского блока был подписан в Брест-Литовске в:

- 1) 1918 г. 2) 1920 г. 3) 1921 г. 4) 1924 г.

25. Определите один из источников средств для проведения индустриализации в Беларуси во второй половине 1920-х — 1930-е гг.:

- 1) акционирование промышленных предприятий
2) финансирование со стороны стран Запада
3) конфискация имущества у зажиточных крестьян
4) продажа за границу новейших технологий

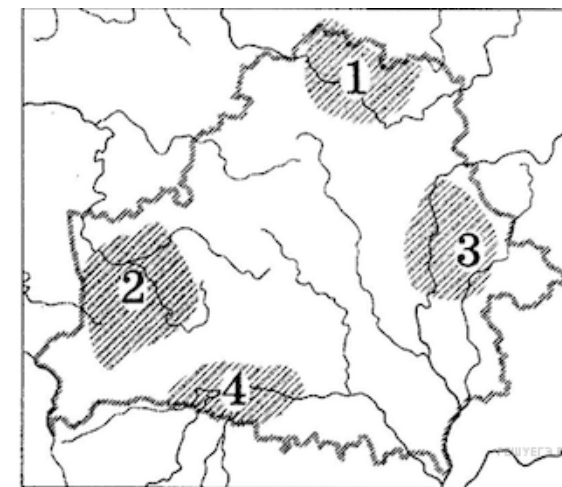
26. Уроженец Беларуси ученый О. Шмидт является одним из:

- 1) исследователей белорусского искусства
2) организаторов и участников освоения Северного морского пути
3) основателей гелиобиологии
4) исследователей социально-экономического развития ВКЛ

27. Определите событие, которое произошло последним из перечисленных:

- 1) освобождение города Бреста от гитлеровских захватчиков
2) начало первого этапа «рельсовой войны»
3) контрудар Красной Армии в направлении Сенно — Лепель
4) карательная операция гитлеровцев против жителей деревни Хатынь

28. Территория, на которой действовал созданный в первые дни Великой Отечественной войны партизанский отряд под командованием В. Коржа, обозначена на картосхеме цифрой:



- 1) 1 2) 2 3) 3 4) 4

29. Прочитайте выдержку из документа.

«...Усе запасы харчавання, сыравіны і фуражу, якія застаюцца ў земляробаў пасля выканання імі палатку, знаходзяцца ў поўным іх распараджэнні і могуць быць выкарыстаны імі для паляпшэння асабістага спажывання і для абмену на прадукты фабрычна-заводскай і саматужнай прамысловасці...».

Определите название исторического документа:

- 1) Декрет о земле II Всероссийского съезда Советов рабочих и солдатских депутатов (1917)
2) резолюция I Северо-Западной областной конференции РСДРП(б) (1917)
3) Продовольственный декрет ЦИК БССР (1919)
4) декрет «О замене продовольственной и сырьевой разверстки натуральным налогом» (1921)

30. Определите особенность восстановления экономики Беларуси во второй половине 1940-х — начале 1950-х гг.:

- 1) продажа мелких предприятий в частную собственность
2) преобладающее развитие легкой промышленности 3) помощь республик СССР
4) приоритетное развитие сферы услуг

31. Определите характерную черту общественно-политической жизни БССР во второй половине 1960-х — первой половине 1980-х гг.:

- 1) проведение выборов в Советы на альтернативной основе

- 2) ослабление пропаганды коммунистической идеологии
- 3) уменьшение количества членов Компартии
- 4) разработка концепции «развитого социализма»

32. Определите характерные черты социально-экономического развития БССР во второй половине 1950-х — первой половине 1980-х гг.:

- а — рост темпов урбанизации в республике
- б — разрешение индивидуальной предпринимательской деятельности
- в — господство ручного труда в промышленности
- г — преобладающее развитие тяжелой промышленности

- 1) а, в 2) а, г 3) б, в 4) в, г

33. Определите одно из последствий августовского путча 1991 г. для Беларуси:

- 1) принятие Декларации о государственном суверенитете БССР
- 2) временное запрещение деятельности Коммунистической партии Беларуси
- 3) переход всей полноты власти к Совету Министров БССР
- 4) начало проведения политики перестройки в обществе

34. Демократический принцип, обеспечивающий доступность для общества сведений о деятельности органов управления, — это:

- 1) гласность 2) волонтаризм 3) плюрализм 4) принцип партийности

35. Принятие новой редакции Конституции Республики Беларусь с изменениями и дополнениями состоялось в:

- 1) 1991 г. 2) 1994 г. 3) 1996 г. 4) 1999 г.

36. Созданная в 2007 г. массовая общественная организация в Республике Беларусь, которая принимает активное участие в политической жизни страны, — это:

- 1) Белорусское общественное объединение ветеранов
- 2) Белорусский республиканский союз молодежи 3) Федерация профсоюзов Беларуси
- 4) общественное объединение «Белая Русь»

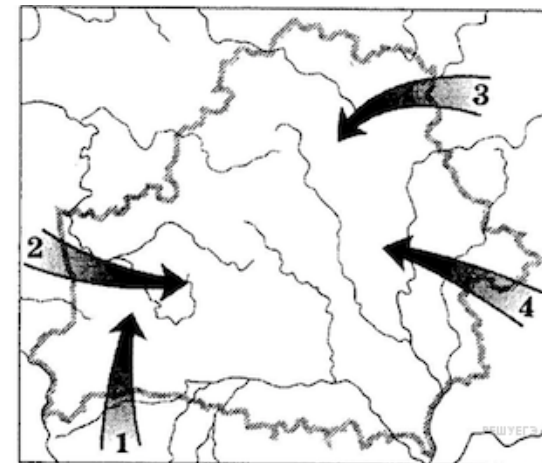
37. Беларусь и Украина стали первыми в мире государствами, которые добровольно отказались от:

- 1) вступления во Всемирную торговую организацию
- 2) финансовой помощи Международного валютного фонда
- 3) обладания ядерным оружием 4) участия в военных союзах и блоках

38. В 2010 г. в Беларуси впервые состоялся международный музыкальный конкурс:

- 1) «Золотой шлягер» 2) «Славянский базар» 3) детский конкурс «Евровидение»
- 4) «Звенят цимбалы и гармонь»

39. Запишите цифру, которой на картосхеме обозначено одно из направлений заселения древними славянами территории Беларуси.



40. Узнайте историческую личность и запишите только имя.

Литовский князь XIV в. Фактически разделил власть в ВКЛ с братом Ольгердом. Свою деятельность направлял на борьбу с крестоносцами. По приказу племянника был убит заговорщиками в Кревском замке.

41. Определите три исторических события, которые произошли во второй половине XVI в.:

- 1) битва войск ВКЛ с московскими войсками под Оршей
- 2) заключение Люблинской унии
- 3) принятие III Статута ВКЛ
- 4) Грюнвальдская битва
- 5) образование Трибунала ВКЛ
- 6) мятеж М. Глинского против верховной власти.

Ответ запишите цифрами в порядке возрастания. Например: 245.

42. Установите соответствие.

Определение

- А) течение в христианстве, сторонники которого отрицали догмат о триединстве Бога
- Б) усиление влияния церкви на общественную и культурную жизнь
- В) религиозное и общественно-политическое движение в Европе в XVI — первой половине XVII в.
- Г) процесс присоединения к польской культуре и распространения польского языка

Понятие, термин

- 1) клерикализация
- 2) Реформация
- 3) полонизация
- 4) арианство

Ответ запишите в виде сочетания букв и цифр, сохраняя алфавитную последовательность букв левого столбца. Например А2Б3В4Г1.

43. Обособленный надел земли, выделенный крестьянской семье из сельского общинного землепользования в одном месте взамен ранее существовавших в нескольких местах «полос» земли, на который не переносилась крестьянская усадьба, — это ...

44. Узнайте историческую личность и запишите только фамилию.

Один из первых исследователей белорусской истории, устного народного творчества и языка. Попытался создать словарь и грамматику белорусского языка. Автор очерков «Путешествие по Полесью и белорусскому краю».

45. Установите соответствие.

СОБЫТИЕ

ГОД

- | | |
|--|---------|
| А) принятие Декларации о вхождении Западной Беларуси в состав БССР | 1) 1922 |
| Б) второе укрупнение территории БССР | 2) 1926 |
| В) создание Союза Советских Социалистических Республик | 3) 1937 |
| Г) принятие третьей Конституции БССР | 4) 1939 |

Ответ запишите в виде сочетания букв и цифр, сохраняя алфавитную последовательность букв левого столбца. Например А2Б3В4Г1.

46. Выберите и запишите термин (понятие), который(-ое) НЕ относится к истории Западной Беларуси в составе Польши:

сервитут, парцелляция, коллективизация, комасация.

47. В годы Великой Отечественной войны первым руководителем Белорусского штаба партизанского движения (БШПД) являлся ... (фамилия).

48. Установите последовательность событий.

- А) начало проведения экономической реформы А. Косыгина
- Б) введение территориального принципа управления экономикой (совнархозы)
- В) первые выборы народных депутатов БССР на альтернативной основе
- Г) введение советских войск в Афганистан

Ответ запишите в виде сочетания букв. Например: ВГАБ.

49. Установите соответствие.

СФЕРА ДЕЯТЕЛЬНОСТИ

ФАМИЛИЯ

- | | |
|---------------------|-----------------|
| А) поэт | 1) В. Коваленок |
| Б) скульптор | 2) И. Лученок |
| В) композитор | 3) А. Аникейчик |
| Г) летчик-космонавт | 4) М. Танк |

Ответ запишите в виде сочетания букв и цифр, сохраняя алфавитную последовательность букв левого столбца. Например А2Б3В4Г1.

50. Определите три характерные черты социально-экономического развития Республики Беларусь во второй половине 1990-х гг. — начале XXI в.:

- 1) сохранение дефицита товаров народного потребления
- 2) бесконтрольная приватизация промышленных предприятий
- 3) разрешение индивидуальной предпринимательской деятельности
- 4) сохранение государственных механизмов регулирования экономики
- 5) сосуществование государственного и частного секторов экономики.

Ответ запишите цифрами в порядке возрастания. Например: 245.